



Yuvashakti Model School

इगोरदोत्र अपर इकरदोरनोते

Sector-III, Rohini, Delhi-110085

ISO 9001:2015

(Affiliated to CBSE & Recognised by Directorate of Education)

WINTER ASSIGNMENT

CLASS – II

2023-24

(ENGLISH)

NAMESECROLL NO.

.....

Q-1 What is happening 'today' in the poem 'Weather Report'?

Q-2 Why can't they have a reading club?

Q-3 What did shobha want to know?

Q-4 Write the meaning of the following words:-

i) Wondered _____

ii) Belong _____

Q-5 Complete the poem:-

Today it's raining _____ and _____

Tomorrow it might be _____

If I should drink some _____ of _____

Perhaps _____ it will rain some _____

Q-6 Circle the words which mean 'trash'.

Litter Bags Waste Packet.

Q-7 Fill in the blanks with and/but in the following sentences:-

1. Prakash _____ Rajesh were playing in the park.

Rajesh wanted to play cricket _____ Prakash

Wanted to play football.

Q-8 Complete the sentences by using am, is or are.

1. The lion _____ roaring.

2. She _____ playing.

Q-9 Join the sentences with 'and'

1) I like fruits. I like vegetables.

Q-10 Write about your Favourite Season:-

हिंदी

नाम - _____ वर्ग- _____ अनुक्रमांक - _____

(1) सर्वनाम शब्दों पर गोला लगाओ-

- | | | |
|---------|----------|--------|
| 1. तुम | हाथी | चूहा |
| 2. रवि | आप | बाज़ार |
| 3. राधा | विद्यालय | यह |
| 4. नदी | वे | मंदिर |
| 5. उसने | काम | फूल |
| 6. कल | मैं | बाज़ार |

(2) सर्वनाम शब्दों पर गोला लगाओ-

एक बार सूरज ने सोचा, क्यों न आज भी छुट्टी मनाऊँ। यह सोचकर वह आकाश से अचानक गायब हो गया। उसके छिपते ही धरती पर अँधेरा छा गया। लोग, पेड़-पौधे जीव-जंतु सब परेशान हो गए। फिर उसने सोचा- आज का दिन मेरे ही नाम पर रविवार है। ये लोग मुझे इतना सम्मान दे रहे हैं तो मुझे भी इनका ध्यान रखना है। मैं इन्हें परेशान नहीं करूँगा। यह सोचते ही सूरज दोबारा चमकने लगा। उसको देख सब खुश हो गए।

(3) उल्टे अर्थ वाले शब्दों का मिलान करें-

| | |
|------|--------|
| हार | झूठ |
| आना | जीत |
| सच | जाना |
| नया | सूखा |
| गीला | कल |
| आज | पुराना |

(4) विशेषण को रेखांकित कीजिए-

1. आम मीठा है।
2. काला घोड़ा तेज दौड़ता है।
3. फूल सुंदर है।
4. पाँच किलो चीनी लानी है।
5. बगीचे की घास हरी है।

(5) दिए गए वाक्यों के खाली स्थानों को उचित विशेषण द्वारा भरिए-

1. यह रास्ता बहुत _____ है। सुंदर
2. मुझे _____ रूप दीजिए। बीस
3. फूल _____ होते हैं। ताज़ा
4. _____ भोजन अच्छा होता है। दानी
5. शिवि एक _____ राजा थे। लंबा

(6) रिक्त स्थानों की पूर्ति कीजिए-

1. पुराने समय में गाँव _____ ही जाना पड़ता था।
2. _____ ने अपनी मशक भरी और वापस आश्रम की ओर चल पड़ा।
3. गुरु जी के जल पीने पर शिष्य को _____ हुई।

4. जब उस शिष्य ने जल पिया होगा तो उसके मन में मेरे लिए _____ उमड़ा।

(7) दी गई पंक्तियों को पूरा कीजिए-

सूरज दादा _____

हम सोते हैं मीठी नींद

_____ जगाते हो।

(8.) सही विकल्प पर सही (✓) का चिह्न लगाइए-

1. घने जंगल में कौन रहता था ?

i) भेड़िया ii) शेर iii) गीदड़

2. बकरी के कितने बच्चे थे ?

i) दो ii) तीन iii) एक

3. बकरी का छोटा बच्चा कैसा था ?

i) चतुर ii) चंचल iii) दोनों

4. मेमने ने नदी के किनारे किसे देखा ?

i) शेर को ii) बकरी को iii) भेड़िए को

5. भेड़िए को किसने घर लिया ?

i) बकरियों ने ii) मेमनों ने iii) शिकारी कुत्तों ने

(9) निम्नलिखित प्रश्नों के उत्तर एक शब्द में दो -

1) कौन सुबह जल्दी उठाने आता है?

उत्तर

2) बच्चा बच्चा सूरज दादा को कहाँ जाने के लिए कहता है?

उत्तर

3) सुबह उठकर बच्चों को कहाँ जाना पड़ता है?

उत्तर

4) बकरी के बच्चे कैसे थे?

उत्तर

10) नीचे दिए गए प्रश्न का उत्तर एक वाक्य में दो-

1) बगुले ने केकड़े के साथ क्या किया?

उत्तर

(2) परी ने उसे क्या अहसास कराया?

उत्तर

Mathematics

Name _____ Sec. _____ Roll No. _____

Q1. Divide the following by using multiplication tables –


(a) $20 \div 4 =$


(c) $45 \div 9 =$

(b) $49 \div 7 =$

(d) $100 \div 10 =$

Q2. Write the time shown by each clock –





Q3. Add the following -

$$\begin{array}{r} \text{(a) } 249 \text{ ml} \\ + 130 \text{ ml} \\ \hline \end{array}$$

$$\begin{array}{r} \text{(b) } 632 \text{ ml} \\ + 439 \text{ ml} \\ \hline \end{array}$$

Q4. Fill in the blanks –

- (a) A day has _____ hours.
- (b) The long hand in a clock shows _____.
- (c) The short hand in a clock shows _____.
- (d) February has _____ days in a leap year.

Q5. Subtract -

$$\begin{array}{r} \text{(a) } 934 \text{ L} \\ - 251 \text{ L} \\ \hline \\ \hline \end{array}$$

$$\begin{array}{r} \text{(b) } 547 \text{ L} \\ - 429 \text{ L} \\ \hline \end{array}$$

Q6. Fill in the blanks-

(a) $6 \times 5 =$ _____

(b) $8 \times 9 =$ _____


(c) $4 \times 3 =$ _____

(d) $6 \times 6 =$ _____

Q7. Tick (\checkmark) the vessel having more capacity –

(a) Cup

(b) Jug



Q8. A bottle contains 35 mL of water. Another bottle contains 55 mL water. Find the total water in two bottles.

Bottle A : 35 mL

Bottle B : + 55 mL

mL

Q9. Write and learn tables from 2 to 10 in rough notebook.

Q10. Do Ex. – 50, 51 and 52 in Mental Maths Book.

EVS

Name _____ Sec. _____ Roll No. _____

Q1. Tick the correct option.

a) A post-man delivers

i) Letters ii) Stamps

b) A florist sells

i) Fruits ii) Flowers

c) Nurses work in a

i) Class ii) Hospital

d) Cashier gives us

i) Money ii) Letters

e) The Christians worship in

i) Church ii) Temple

Q2. Give any two examples of each:

a) Name any two occupations

Ans. _____ , _____

b) Any two National festivals

Ans. _____ , _____

Q3. Answer the following questions.

a) Where do you go to deposit money?

Ans. _____

b) What does a policeman do?

Ans. _____

Q4. Fill in the blanks.

a) Always _____ the traffic rules.

b) Snake boat races are held on _____.

c) A _____ takes care of the patients.

d) We go to _____ to purchase things.

Q5. Write true and false.

a) We should not get down from a moving bus. _____

b) We should play with sharp things. _____

c) The holy book of Sikhs is Bible. _____

d) India is called the land of festival. _____

Q6. Draw and label any one festival.

